


I- Solides en perspective cavalière :

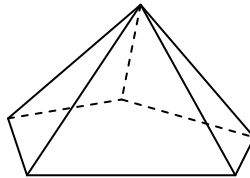
Un **solide** est une figure « en relief », conçue par assemblage de différentes figures planes (polygones).

Puisqu'il est impossible de la faire tenir sur une feuille qui est **plane** (plate), on la **représente** donc suivant un procédé de dessin appelé **perspective cavalière** :

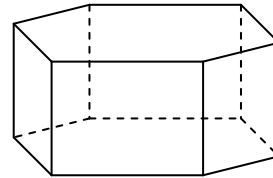
Exemples :



- ... faces
- ... arêtes (dont 3 cachées)
- ... sommets



- ... faces
- ... arêtes (dont 3 cachées)
- ... sommets



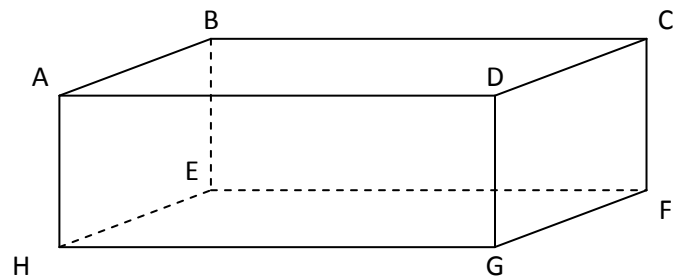
- ... faces
- ... arêtes (dont 5 cachées)
- ... sommets

- Les faces avant et arrière (situées dans le même plan que la feuille) sont en **vraie grandeur**.
- Les autres faces sont déformées par la perspective, qui ne conserve que le parallélisme.
- Les arêtes cachées sont représentées en **pointillés**.

II- Description d'un parallélépipède rectangle.

Un **parallélépipède rectangle** ou **pavé droit** est un solide dont les 6 faces sont des rectangles.

ABCDEFGH est un pavé droit représenté en perspective cavalière.



Il a faces, arêtes et sommets.

Toutes ses faces sont des rectangles :

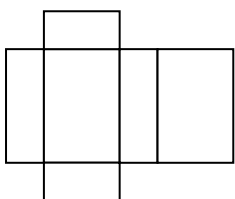
- Les faces ADGH et BCFE sont bien représentées par des rectangles en vraie grandeur.

Les faces ABCD, EFGH, ABEH et CDGF sont aussi des rectangles en réalité, mais la perspective les a transformés en « parallélogrammes ».

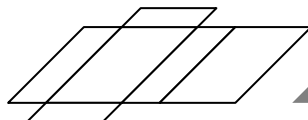
Cas particulier : Quand toutes les faces sont des carrés, le pavé droit est un **cube**.

III- Patron.

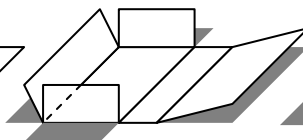
Un **patron d'un solide** est un dessin qui permet, après découpage et pliage, de fabriquer ce solide. Chaque face est en vraie grandeur.



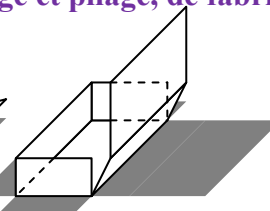
1. Le patron du pavé droit



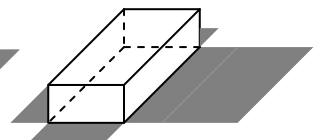
2. Le même patron en perspective cavalière.



3. On découpe et on plie



4. On colle les arêtes



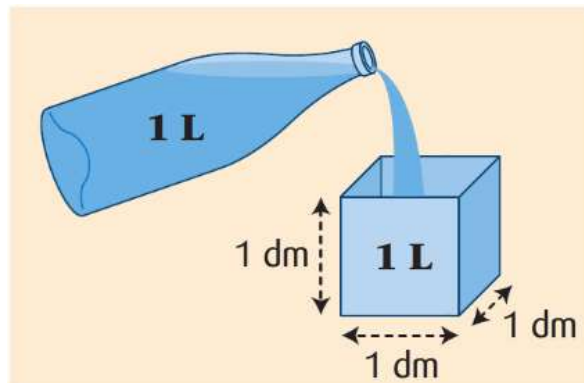
5. On obtient le pavé droit.

IV- Volume.

1) Notion de volume.

L'unité légale de contenance est le litre (L).

1 L est la contenance d'un cube de 1 dm d'arête.



■ Autres unités de contenance

Multiples de l'unité		Unité	Sous-multiples de l'unité		
hectolitre (hL)	décalitre (daL)	litre (L)	décilitre (dL)	centilitre (cL)	millilitre (mL)
1 hL = 10 daL	1 daL = 10 L	1 L	1 dL = 0,1 L	1 cL = 0,1 dL	1 mL = 0,1 cL

1 L = 10 dL = 100 cL = 1 000 mL.

2) Formule.

L'unité légale de volume est le mètre cube (m^3).

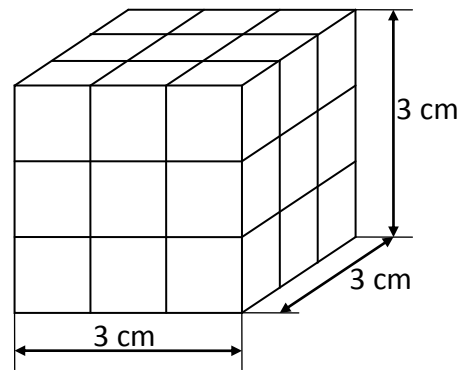
1 m^3 est le volume d'un cube de 1 m d'arête.

Activité :

a) Le dessin ci-contre représente un dé cubique de 3 cm d'arête, rempli de cubes de 1 cm d'arête.

Quel est le volume en cm^3 du dé ?

.....



b) Le dessin ci-contre représente un aquarium.

Combien de cubes de 1 dm^3 faudrait-il pour le remplir ?

.....

Peut-on en déduire une formule pour calculer le volume d'un parallélépipède rectangle ?

.....

